

NOM:..... DATA:...../...../.....

1. Indica si les següents afirmacions són vertaderes (V) o falses (F): 0.7 p

- El relleu de Sierra Morena és abrupte pel seu vessant meridional.
- La Meseta es caracteritza per elevades muntanyes i estretes valls.
- Les serres interiors de la Meseta estan disposades de Nord a Sud.
- El Sistema Ibèric està format per materials hercinians i secundaris.
- La Meseta és la unitat principal del relleu espanyol i es divideix en dos Submesetes.
- La Serralada Cantàbrica es caracteritza per la seva perfecta simetria entre la part Nord i la part Sud.
- El Massís Galaicolleonès correspon a un fragment del relleu més antic de la Península.

2. Assenyal els trets fonamentals del relleu peninsular espanyol. 1 p

.....

.....

.....

.....


.....

.....

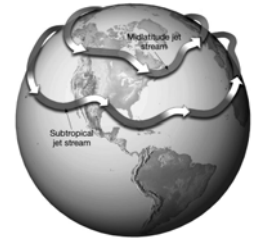
.....

.....

.....



3. Explica el protagonisme del corrent en jet i la seva relació amb les àrees d'altres i baixes pressions: 1 p



.....

.....

.....

.....

.....

.....

.....

.....

.....

4. Com afecta la forma i el relleu de la Península Ibèrica a la circulació de les diferents masses d'aire? 1p

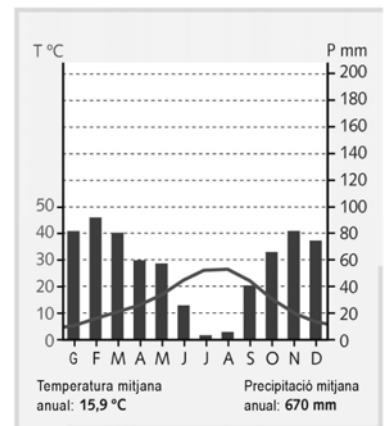
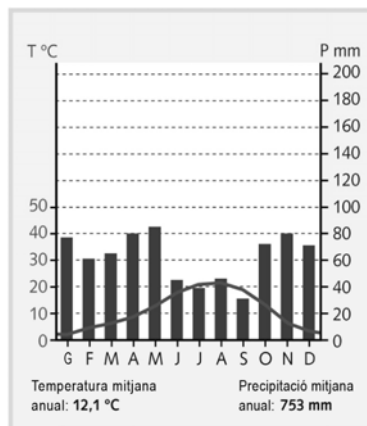
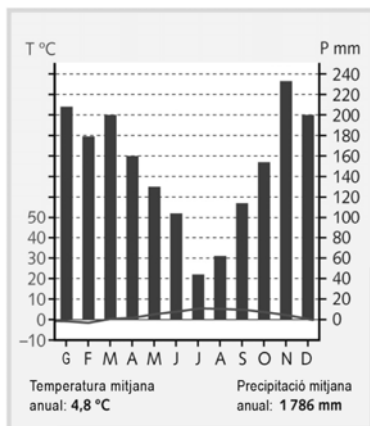
.....

.....

.....

.....

5. Identifica els següents climes i assenyala les seves característiques principals: 1.2 p



.....

.....

.....

.....

.....
.....

6. Assenyal·la els avantatges i els inconvenients de les pol·tiques h·driques que es desenvolupen en tot el territori espanyol: 0.8 p

	Avantatges	Inconvenients
Pol·tiques de transvasaments		
Dessalinitzaci3 de l'aigua del mar		
Recuperaci3 dels aq·ifers		
Sanejament dels rius		

7. Indica les caracter·stiques m·s destacades dels seg·ents recursos energ·tics: 0.9

Carb3	
Petroli	
Gas natural	

8. Indica les caracter·stiques m·s importants de cada paisatge vegetal d'Espanya: 1.2 p

- Paisatge vegetal oce·nic:
-
.....
.....

- Paisatge vegetal mediterrani:
-
.....

.....

– Paisatge vegetal de les Canàries:

–

.....

.....

– Paisatge vegetal de muntanya:

–

.....

.....

9. Respon les qüestions següents sobre la contaminació: 1.2 p

– Com es classifiquen els diferents tipus de contaminació segons el seu mètode contaminant?

.....

.....

– Quines són les repercussions del canvi climàtic en els oceans?

.....

.....

– Què s'entén per empremta ecològica?

.....

.....

10. Explica en què consisteix el consum responsable i com pot contribuir a la millora del medi ambient global: 1 p

.....

.....

.....

.....

.....

.....

.....